







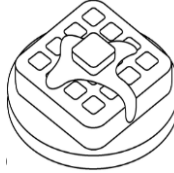
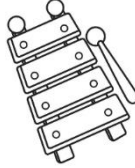


NOMBRE: _____ CURSO: _____

PLAN DE MEJORAMIENTO ÁREA DE LENGUA CASTELLANA

1. Observa, lee, encierra la palabra que corresponde y colorea las imágenes.

				
Yoyo Yuca Yate	Falda Foca Fuente	Hueso Hueco Huevo	Jirafa Jugo Jarrón	Zancudo Zapato Zorro
				
Lluvia Llave Llano	Chapa Chupa Chef	Kiosko Kiwi Koala	Wafle Wifi Wilson	Ximena Xilófono Xavier

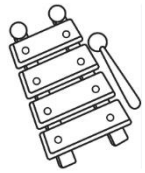
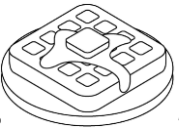
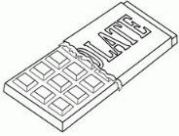
2. Escribe una oración utilizando las anteriores imágenes y colorea.











3. Encuentra las anteriores palabras en la siguiente sopa de letras

Z	A	B	C	L	L	U	V	I	A
A	C	H	O	C	O	L	A	T	E
P	D	E	J	F	G	Y	O	Y	O
A	H	J	I	L	K	M	N	P	H
T	Ñ	O	R	P	O	Q	R	S	U
O	V	W	A	W	A	F	L	E	E
G	S	D	F	M	L	Y	B	R	V
F	O	C	A	X	A	A	C	D	G
U	X	I	L	O	F	O	N	O	T



2. Resuelve las siguientes sumas:

$200 + 800 =$	
$350 + 100 =$	
$150 + 450 =$	
$630 + 120 =$	
$420 + 370 =$	
$570 + 230 =$	
$760 + 140 =$	
$810 + 110 =$	
$900 + 100 =$	

3. Resuelve las siguientes restas:

$450 - 100 =$	
$220 - 110 =$	
$170 - 140 =$	
$720 - 200 =$	
$150 - 380 =$	
$315 - 152 =$	
$660 - 230 =$	
$540 - 350 =$	
$338 - 532 =$	

4. Lee con atención y resuelve los siguientes problemas:

Problemas



Rubén tiene 25 monedas,
su papá le dio 31 y su tía le dio
44. ¿Cuántas tiene en total?

José tiene 66 monedas,
si le dio 21 a su hermana,
¿cuántas monedas le quedaron?

María tiene 12 flores.
Si novio le regalo 17 más.
¿Cuántas flores tiene ahora?

En un jardín había 42 rosas.
Esta semana cortaron 17,
¿cuántas rosas quedaron?

Problemas



En una tienda de mascotas
tienen 60 conejos negros y
blancos. Si 19 son de color blanco
¿cuántos son de color negro?


En un edificio hay 75 ventanas,
si 33 están abiertas
¿cuántas están cerradas?

Antonio invito a 65 personas a
sus fiesta, si ya han llegado
32 ¿cuántas personas faltan
por llegar?

Armando tiene 18 peces en su
pecera y Jaime tiene 35 en la
suya. Si lo juntan
¿cuántos peces serian?

PLAN DE MEJORAMIENTO ÁREA DE CIENCIAS NATURALES

1. Colorea de verde el elemento que se encuentre en estado sólido, en azul el que se encuentre en estado líquido y en amarillo el que se encuentre en estado gaseoso.



2. Elige la opción correcta



agua

- líquido
 sólido
 gaseoso



plancha

- líquido
 sólido
 gaseoso



nube

- líquido
 sólido
 gaseoso



hueso

- líquido
 sólido
 gaseoso



aceite

- líquido
 sólido
 gaseoso



3. Pega imágenes de objetos con las siguientes características:

Duro	Blando
Suave	Áspero
Liso	Rugoso